

Lernaufgaben Klasse 2a und b

Liebe Eltern, liebe Kinder,

die folgenden Aufgaben dürfen zum selbstbestimmten Festigen und Üben von bereits vermitteltem Wissen gelöst werden.

Im Voraus bedanken wir uns für Ihre Unterstützung und hoffen, Sie und Ihre Familie bleiben gesund!

Herzliche Grüße

G. Oelschlägel und D. Schreck

Deutsch:

- AH-Seiten (die mit einem **x gekennzeichnet** wurden) vervollständigen
(AH S. 4-13, S. 16-17, S. 19, S. 20-27, S. 42-44)
- Strategie „Verlängern“ üben:
 - AH S. 15
- Strategie „Silben“ üben:
 - SB S. 23
- Schreibschrift üben
- Lesefitness
- Lernwörter üben
(SB S. 12, S. 13, S. 14, S. 24, S. 25, S. 36, S. 38, S. 66, S. 67, S. 72)
- Zwielaute üben (SB S. 72)
- Wörter nach dem **ABC** ordnen (SB S. 17)

- **Wortarten** üben:
 - Adjektive (SB S. 66-67), Substantive (SB S.13), Verben (SB S. 24)
 - Groß oder klein? (SB S. 15)

- **Satzarten** üben:
 - Fragesätze (SB S. 27)
 - Aufforderungssätze und Ausrufe (SB S. 57)

- **Abschreiben** üben (SB S. 16)

- **Übungsseiten:** SB S. 18-19, SB S. 31-33, SB S. 48-49

Lernaufgaben Klasse 2a/ 2b Mathematik

Liebe Kinder,

ich würde mich sehr freuen, wenn ihr auch weiterhin daheim die Grundaufgaben bis zur 20 schriftlich und mündlich übt.

Ihr könnt auch im vorgedruckten Arbeitsheft (bis Seite 41) die noch nicht erledigten Übungen bearbeiten.

Vielleicht haben eure Eltern die Möglichkeit, die Arbeitsblätter aus dem Anhang zur Bearbeitung auszudrucken.

Viel Freude beim Üben !!!

Eure Frau Oelschlägel



Name:

Klasse:

Mathematik

Kopfrechnen 1



① Wie viele Aufgaben schaffst du in fünf Minuten?

$40 + 30 = \underline{\quad}$

$14 + 9 = \underline{\quad}$

$32 + 17 = \underline{\quad}$

$15 - 9 = \underline{\quad}$

$54 - 6 = \underline{\quad}$

$17 + 8 = \underline{\quad}$

$50 + 20 = \underline{\quad}$

$19 + 4 = \underline{\quad}$

$15 - 6 = \underline{\quad}$

$45 - 7 = \underline{\quad}$

$54 + 9 = \underline{\quad}$

$55 + 8 = \underline{\quad}$

$10 + 45 = \underline{\quad}$

$54 + 6 = \underline{\quad}$

$65 + 8 = \underline{\quad}$

$45 - 6 = \underline{\quad}$

$24 + 13 = \underline{\quad}$

$80 + 18 = \underline{\quad}$

$40 + 22 = \underline{\quad}$

$33 + 4 = \underline{\quad}$

$54 - 8 = \underline{\quad}$

$42 + 23 = \underline{\quad}$

$45 + 8 = \underline{\quad}$

$88 + 7 = \underline{\quad}$

$34 - 6 = \underline{\quad}$

$72 - 8 = \underline{\quad}$

$97 - 8 = \underline{\quad}$

$55 + 22 = \underline{\quad}$

$56 + 9 = \underline{\quad}$

$37 + 4 = \underline{\quad}$

$41 - 6 = \underline{\quad}$

$45 + 15 = \underline{\quad}$

$29 + 5 = \underline{\quad}$

② Notiere deinen Rechenweg! (Löse im Übungsheft)

2a)	2	6	+	4	2	=	...

a) $26 + 42$ b) $25 + 32$ c) $54 + 21$ d) $34 + 45$

$32 + 45$ $53 + 16$ $82 + 17$ $52 + 26$

$64 + 13$ $76 + 22$ $45 + 13$ $13 + 55$

$31 + 46$ $36 + 41$ $62 + 27$ $61 + 27$

57 58 68 68 69 75 77 77 77 77 78 79 88 89 98 98 99

③ Löse! Die Umkehraufgabe hilft dir.

a) $\underline{\quad} + 42 = 62$

b) $\underline{\quad} - 11 = 75$

c) $\underline{\quad} + 23 = 44$

d) $\underline{\quad} + 46 = 58$

$\underline{\quad} + 30 = 45$

$\underline{\quad} - 22 = 22$

$\underline{\quad} - 32 = 15$

$\underline{\quad} - 13 = 62$

$\underline{\quad} + 16 = 48$

$\underline{\quad} - 34 = 21$

$\underline{\quad} + 17 = 78$

$\underline{\quad} + 28 = 69$

$\underline{\quad} + 24 = 55$

$\underline{\quad} - 43 = 34$

$\underline{\quad} - 26 = 53$


$\underline{\quad} - 36 = 14$

Name:

Klasse:

Mathematik

Zahlenraum 100 3



Rechne aus.

$28 - 15 = \underline{\quad}$

$46 - 35 = \underline{\quad}$

$61 - 61 = \underline{\quad}$

$29 - 18 = \underline{\quad}$

$27 - 15 = \underline{\quad}$

$43 - 11 = \underline{\quad}$

$78 - 56 = \underline{\quad}$

$55 - 42 = \underline{\quad}$

$35 - 14 = \underline{\quad}$

$69 - 47 = \underline{\quad}$

$64 - 23 = \underline{\quad}$

$34 - 21 = \underline{\quad}$

$58 - 32 = \underline{\quad}$

$66 - 42 = \underline{\quad}$

$55 - 20 = \underline{\quad}$

$79 - 74 = \underline{\quad}$

$74 - 24 = \underline{\quad}$

$31 - 21 = \underline{\quad}$

$99 - 75 = \underline{\quad}$

$66 - 33 = \underline{\quad}$

$36 - 22 = \underline{\quad}$

$88 - 68 = \underline{\quad}$

$74 - 13 = \underline{\quad}$

$99 - 81 = \underline{\quad}$

$48 - 46 = \underline{\quad}$

$46 - 24 = \underline{\quad}$

$13 - 12 = \underline{\quad}$

$59 - 45 = \underline{\quad}$

$47 - 15 = \underline{\quad}$

$12 - 10 = \underline{\quad}$

$38 - 26 = \underline{\quad}$

$75 - 64 = \underline{\quad}$

$87 - 65 = \underline{\quad}$

$49 - 27 = \underline{\quad}$

$84 - 22 = \underline{\quad}$

$99 - 28 = \underline{\quad}$

$48 - 23 = \underline{\quad}$

$76 - 53 = \underline{\quad}$

$33 - 10 = \underline{\quad}$

$67 - 34 = \underline{\quad}$

$27 - 12 = \underline{\quad}$

$32 - 12 = \underline{\quad}$

$68 - 25 = \underline{\quad}$

$35 - 22 = \underline{\quad}$

$47 - 34 = \underline{\quad}$

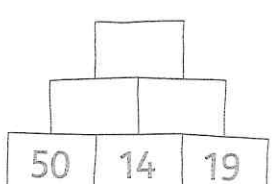
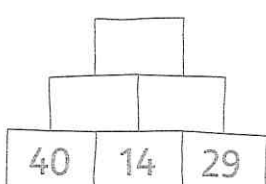
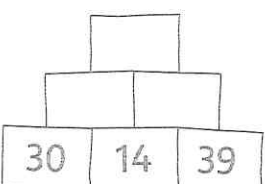
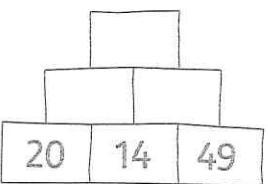
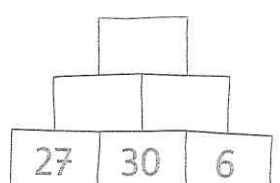
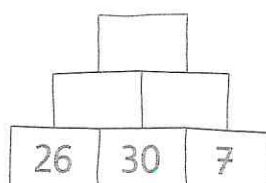
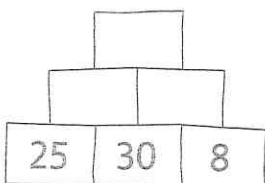
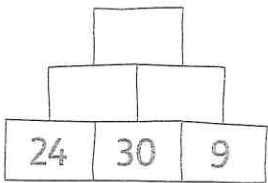
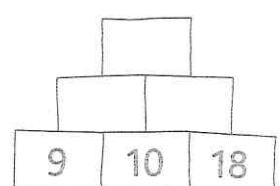
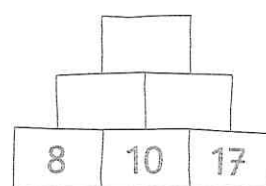
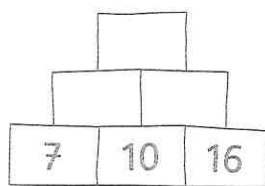
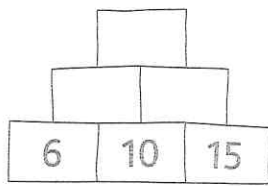
$22 - 20 = \underline{\quad}$

$54 - 44 = \underline{\quad}$

$44 - 21 = \underline{\quad}$

Plusaufgaben mit Zehnerübergang üben

1



2

23	+	6		
+		+		+
8	+	9		

7	+	8		
+		+		+
45	+	6		

3	+	78		
+		+		+
9	+	4		

15	+	7		
+		+		+
38	+	5		

8	+	69		
+		+		+
5	+	14		

4	+	57		
+		+		+
29	+	9		

3

+	7	17	27	37	47
13	20				
38					

+	26	27	28	29	30
44					
65					

+	5	35	15	25	45
29					
47					

+	35	37	36	39	38
18					
56					



1

Wie viel Geld ist es?



3 € 28 ct



___ € ___ ct



___ € ___ ct



___ € ___ ct



___ € ___ ct



___ € ___ ct

2 Mit welchen Münzen kannst du bezahlen?

Zeichne!

4 € 63 ct	6 € 45 ct	3 € 81 ct	7 € 12 ct

Wie viel Geld ist es?

9 € ___ ct

___ € ___ ct

___ € ___ ct

___ € ___ ct

___ € ___ ct

___ € ___ ct

2 Mit welchen Scheinen und Münzen kannst du bezahlen?

Zeichne!

14 € 67 ct	10	2€	
19 € 34 ct			
26 € 51 ct			
29 € 8 ct			
33 € 79 ct			